




Adı Soyadı : .....

Numarası : .....


## Konu: Onluk ve Birlikleri Tanıyalım Etkinliği 5

Aşağıda onluk ve birlikleri verilmiş sayıları yazalım. Sayılar hangi görsele ait ise eşleştirelim.


1 onluk 5 birlik = .....



1 onluk 3 birlik = .....




1 onluk 9 birlik = .....



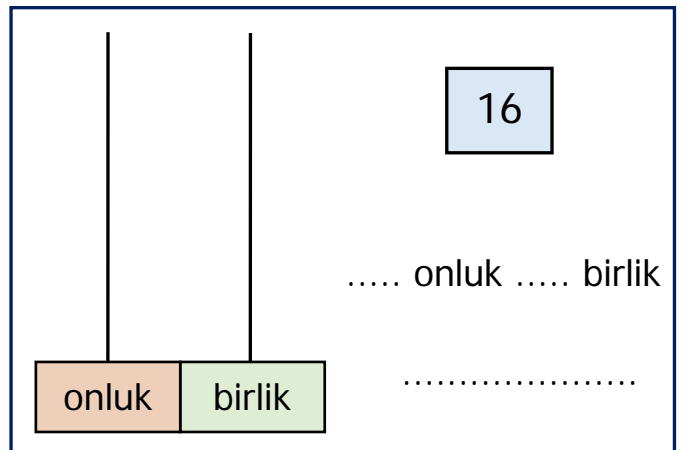
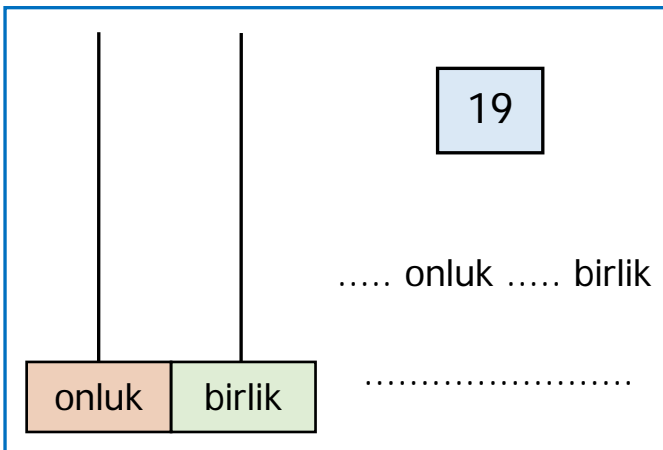
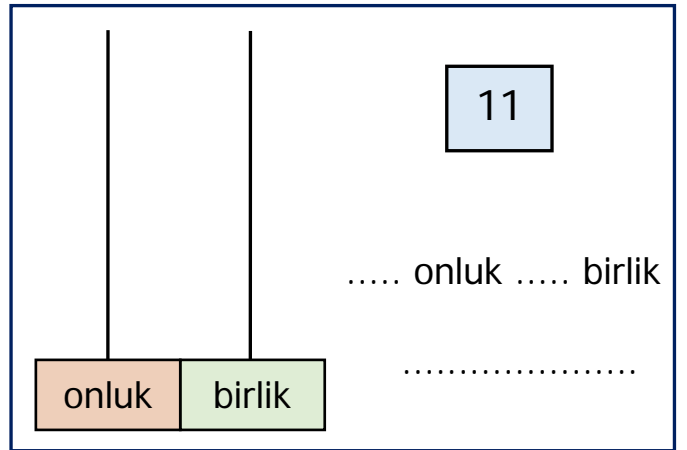
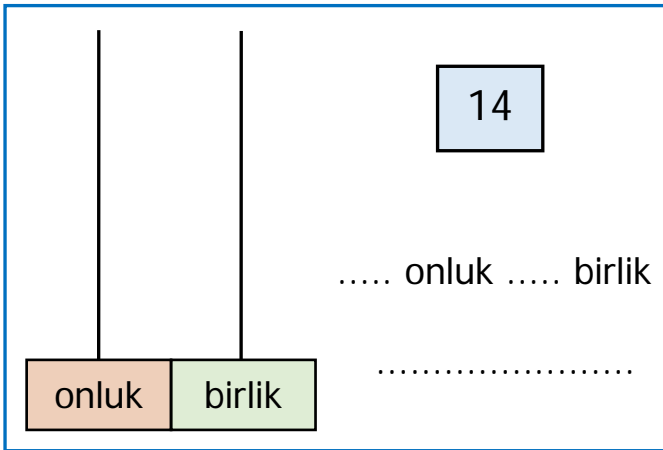
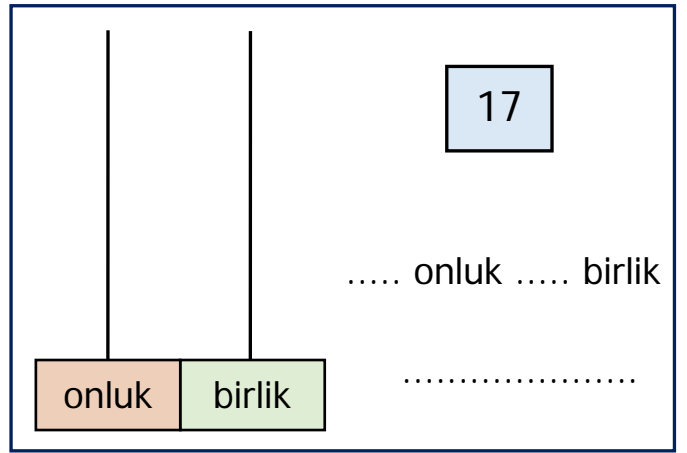
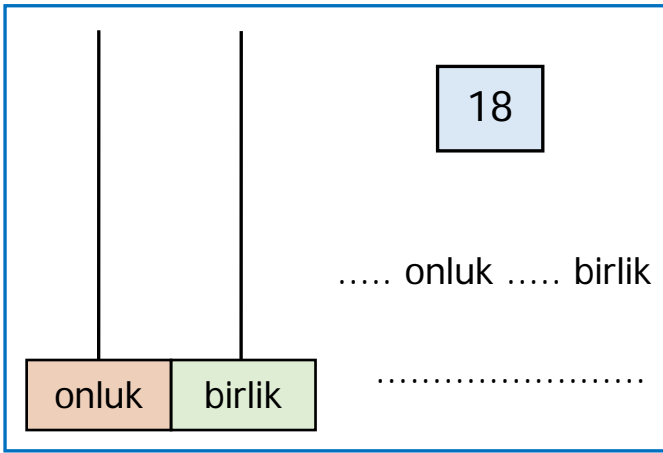
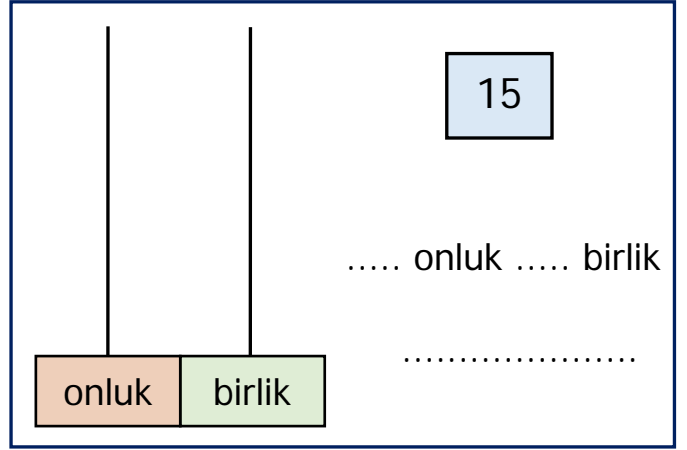
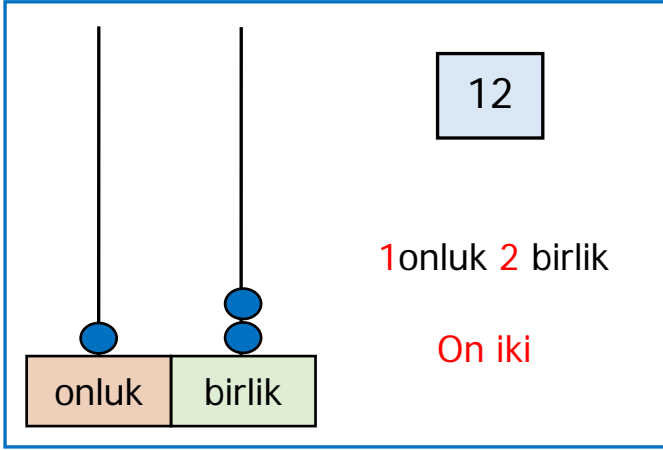
1 onluk 6 birlik = .....



2 onluk 0 birlik = .....



Sayıları abaküste örnekteki gibi göstereli ve noktalı yerlere yazalım.



Aşağıda verilen sayıların onluk ve birliklerini örnekteki gibi yazalım.

12	1 onluk 2 birlik
....	1 onluk 4 birlik
....	1 onluk 8 birlik
....	1 onluk 6 birlik
....	2 onluk 0 birlik

....	1 onluk 3 birlik
....	1 onluk 5 birlik
....	1 onluk 7 birlik
....	1 onluk 1 birlik
....	1 onluk 9 birlik

Onluk ve birlikleri verilmiş olan sayıları örnekteki gibi yazalım.

1 onluk 5 birlik	15
------------------	----

1 onluk 1 birlik	....
------------------	------

1 onluk 3 birlik	....
------------------	------

1 onluk 6 birlik	....
------------------	------

1 onluk 4 birlik	....
------------------	------

2 onluk 0 birlik	....
------------------	------

1 onluk 7 birlik	....
------------------	------

1 onluk 9 birlik	....
------------------	------

1 onluk 2 birlik	....
------------------	------

1 onluk 8 birlik	....
------------------	------